



CAREER CENTRE THE PATH TO SUCCESS

SUNDAY WEEKLY TEST_2407

Website- www.careercentre360.com

Email- apanacareerssm@gmail.com

MOB 9430206005

1. यदि 450 का 18% = k का 30% है, तो k का मान ज्ञात कीजिए।

- (A) 320
- (B) 270
- (C) 250
- (D) 750

Answer: B

2. यदि 280 का k%, 350 के 50% के बराबर है, तो k का मान ज्ञात कीजिए।

- (A) 75
- (B) 72.5
- (C) 62.5
- (D) 60

Answer: C

3. यदि किसी संख्या का 24%, 39 के बराबर है, तो वह संख्या ज्ञात कीजिए।

- (A) 160.5
- (B) 162.5
- (C) 161.5
- (D) 163.5

Answer: B

4. किसी संख्या के $\frac{3}{5}$ के $\frac{7}{17}$ का $\frac{2}{5}$ भाग 84 है। उस संख्या का 40% ज्ञात कीजिए।

- (A) 850
- (B) 570
- (C) 280
- (D) 340

Answer: D

5. 40 के 20 प्रतिशत के 8 प्रतिशत का मान ज्ञात कीजिए?

- (A) 0.64
- (B) 4.80
- (C) 0.80
- (D) 6.64

Answer: A

6. एक संख्या का 82%, 738 के बराबर है। उस संख्या के 90% का मान ज्ञात कीजिए।

- (A) 820
- (B) 802

(C) 810

(D) 900

Answer: The Path to Success

7. एक संख्या के 29.5% का मान 0.59 है। वह संख्या ज्ञात कीजिए।

- (A) 1.8
- (B) 2
- (C) 2.5
- (D) 2.4

Answer: B

8. यदि $x = 2^3 \times 3^2 \times 5 \times 7^3$, $y = 2^2 \times 3^3 \times 5^2 \times 7^2$, और $z = 2^4 \times 3 \times 5^3 \times 7$ है, तो x, y और z का महत्तम समापवर्तक (HCF) ज्ञात कीजिए।

- (A) 1260
- (B) 840
- (C) 420
- (D) 630

Answer: C

9. 875, 245 और 1225 का महत्तम समापवर्तक (HCF) क्या होगा?

- (A) 105
- (B) 7
- (C) 35
- (D) 5

Answer: C

10. 98, 28 और 112 का लघुत्तम समापवर्तक (LCM) ज्ञात कीजिए।

- (A) 1176
- (B) 1568
- (C) 392
- (D) 784

Answer: D

11. 28 और 49 के लघुत्तम समापवर्तक (LCM) और महत्तम समापवर्तक (HCF) का योगफल कितना होगा?

- (A) 210
- (B) 203
- (C) 196

(D) 217

Answer: B

12. $\frac{2}{9}, \frac{16}{81}, \frac{32}{117}$ और $\frac{54}{189}$ का महत्तम समापवर्तक (HCF) ज्ञात कीजिए।

$$\begin{array}{r} 4 \\ \hline 6459 \\ \hline 4 \end{array}$$

$$(A) \begin{array}{r} 1899 \\ \hline 2 \end{array}$$

$$(C) \begin{array}{r} 7371 \\ \hline 8 \end{array}$$

$$(D) \begin{array}{r} 8483 \end{array}$$

Answer: C

13. $\frac{10}{3}$ और $\frac{5}{2}$ का लघुत्तम समापवर्त्य (LCM) ज्ञात कीजिए।

$$(A) \begin{array}{r} 6 \\ \hline 5 \end{array}$$

$$(B) \begin{array}{r} 4 \\ \hline 3 \end{array}$$

$$(C) \begin{array}{r} 25 \\ \hline 3 \end{array}$$

$$(D) \begin{array}{r} 5 \\ \hline 6 \end{array}$$

Answer: A

14. चार अंकों की वह बड़ी से बड़ी संख्या ज्ञात कीजिए, जो 18, 25, 45 और 55 से पूर्णतः विभाज्य हो।

(A) 9940

(B) 9900

(C) 9950

(D) 9500

Answer: B

15. पांच अंकों की वह छोटी से छोटी संख्या ज्ञात कीजिए, जो 12, 16, 24 और 28 से पूर्णतया विभाज्य है।

(A) 10080

(B) 10090

(C) 10060

(D) 10070

Answer: A

16. निम्न में से कौन सी भिन्न सबसे बड़ी है?

$$\frac{7}{9}, \frac{6}{7}, \frac{22}{25}, \text{ और } \frac{11}{13}$$

$$(A) \begin{array}{r} 11 \\ \hline 13 \end{array}$$

$$(B) \begin{array}{r} 22 \\ \hline 25 \end{array}$$

$$(C) \begin{array}{r} 6 \\ \hline 7 \end{array}$$

$$(D) \begin{array}{r} 7 \\ \hline 9 \end{array}$$

Answer: B

17. यदि 5 अंकों की संख्या $505xy$, 11 और 21 से विभाज्य है, तो $(7x - 5y)$ का मान क्या होगा?

(A) 11

(B) 30

(C) 16

(D) 31

Answer: A

18. ऐसी चार क्रमागत संख्याएँ ज्ञात कीजिए कि पहली संख्या के दोगुने, दूसरी संख्या के तीन गुने, तीसरी संख्या के चार गुने और चौथी संख्या के पांच गुने का योग 236 हो।

(A) 15, 16, 17, 18

(B) 17, 18, 19, 20

(C) 18, 19, 20, 21

(D) 19, 20, 21, 22

Answer: A

19. वह संख्या ज्ञात कीजिए, जिसका $\frac{4}{5}$ भाग, उसके $\frac{3}{4}$ भाग से 4 अधिक है।

(A) 100

(B) 80

(C) 90

(D) 70

निरूपण है?

541

(A) 900

546

(B) 99

541

(C) 100

541

(D) 99

The Path to Success
**CAREER
CENTRE**

Darmshala Road, Sasaram, 821115

DISCIPLINE

LABOUR

THE
PATH
TO
SUCCESS
THE
PATH
TO

FOCUS

CONFIDENCE

FOR

**SSC RAILWAY
BANKING**

430206005

Answer: B

20. दो संख्याओं का योग 16 है और उनका गुणनफल 63 है।
उन दोनों संख्याओं के व्युत्क्रम का योग क्या होगा?

16

(A) 63

63

(B) 16

8

(C) 63

60

(D) 63

Answer: A

21. किसी प्रतियोगी परीक्षा में प्रत्येक सही उत्तर पर 1 अंक मिलता है, हल न किए प्रश्न के लिए 0 अंक मिलता है और प्रत्येक

1

गलत उत्तर पर 2 अंक काटा जाता है। अम्बिका ने 120 प्रश्नों के उत्तर दिए और उसे 90 अंक प्राप्त हुए। उसके द्वारा दिए गए उत्तरों में से कितने सही थे?

(A) 98

(B) 60

(C) 100

(D) 110

Answer: C

$a = \frac{17}{99}, b = \frac{13}{47}$ और $c = \frac{34}{33}$ है, तो

22. यदि $(ab) \div c$ का मान ज्ञात कीजिए।

19

(A) 289

13

(B) 282

21

(C) 354

17

(D) 264

Answer: B

23. निम्नलिखित में से कौन सा 5. 46 का सही भिन्नात्मक

Answer: D

24. $6^{1.2} \times 36^2 \times 30^{2.4} \times 25^{1.3} = 30^5$ में ? का मान ज्ञात कीजिए।

(A) 2.6

(B) 0.1

(C) 0.7

(D) 1.4

Answer: C

25. 12288 संख्या के कितने गुणनखंड होंगे?

(A) 24

(B) 26

(C) 28

(D) 22

Answer: B

26. Alphabet में बायें से 15 वे अक्षर के दाये का 20 वाँ अक्षर कौन - सा होगा।

(A) I

(B) G

(C) H

(D) L

Answer: a

27. "POSITIVE" शब्द में अक्षरों के ऐसे कितने जोड़े हैं जितने की वर्णमाला के कम में होते हैं ?

(A) कोई नहीं

(B) 1

(C) 2

(D) 3

(E) 3 से अधिक

Answer: E

28. निर्देश : निम्नलिखित प्रश्नों में दिए गए विकल्पों में से वह शब्द चुनिए, जो दिए गए शब्द के अक्षरों का प्रयोग करके नहीं बनाया जा सकता।

COURAGEOUS

(A) **SECURE**

(B) **ARGUE**

(C) **COURSE**

(D) **GRACE**

Answer: A

29. अंग्रेजी वर्णमाला को बाएं से दाएं लिखने पर, बाएं से 12वें अक्षर के दाईं ओर 5वां अक्षर कौन सा होगा?

(A) P

(B) Q

(C) H

(D) E

Answer: B

30. उस विकल्प का चयन करें, जिसका तीसरे शब्द से वही संबंध है, जो दूसरे शब्द का पहले शब्द से है।

किलोग्राम : द्रव्यमान :: किलोमीटर :

(A) चाल

(B) लंबाई

(C) समय

(D) बल

Answer: B

31. उस विकल्प को चुनें, जो तीसरी संख्या से उसी तरह संबंधित है जैसे पहली संख्या दूसरी से संबंधित है।

25 : 16 :: 41 : ?

(A) 32

(B) 30

(C) 51

(D) 31

Answer: A

32. उस अक्षर का चयन करें, जो निम्नलिखित श्रेणी में प्रश्न चिह्न (?) के स्थान पर आ सकता है।

B : H :: P : V :: N : ?

(A) T

(B) P

(C) M

(D) K

Answer: A

33. उस विकल्प का चयन कीजिए, जिसका पांचवें अक्षर-समूह से वही संबंध है, जो दूसरे अक्षर-समूह का पहले अक्षर-समूह से है और चौथे अक्षर-समूह का तीसरे अक्षर-समूह से है।

(A) GST

(B) GSN

(C) HRN

(D) HRT

Answer: B

34. दिए गए संख्या-युग्मों में से प्रत्येक में, दूसरी संख्या, पहली संख्या पर एक निश्चित गणितीय संक्रिया करके प्राप्त की जाती है। निम्नलिखित में से तीन संख्या-युग्म एक समान पैटर्न का पालन करते हैं, और इस प्रकार एक समूह बनाते हैं। उस संख्या-युग्म का चयन करें, जो उस समूह से संबंधित नहीं है।

(A) 729 - 10

(B) 512 - 9

(C) 125 - 6

(D) 343 - 5

Answer: D

35. सूचीबद्ध चार शब्दों में से, तीन किसी तरह से संगत हैं और एक असंगत है। असंगत का चयन करें।

(A) इंडिया

(B) आस्ट्रेलिया

(C) अफ्रीका

(D) यूरोप

Answer: A

36. एक निश्चित कूट भाषा में, 'क्लब' को 'विद्यालय' लिखा जाता है, 'विद्यालय' को 'खेल का मैदान' लिखा जाता है, 'खेल का मैदान' को 'घर' लिखा जाता है, 'घर' को 'बाजार' लिखा जाता है, और 'बाजार' को

'बस' लिखा जाता है।

विद्यार्थी अध्ययन करने कहां जाते हैं?

- (A) खेल का मैदान
- (B) घर
- (C) बस
- (D) विद्यालय

Answer: A

37. एक निश्चित कूट भाषा में 'TONGUE' को 'EOUGNT' लिखा जाता है, और 'JEALOUS' को 'AEOUJLS' लिखा जाता है। उसी कूट भाषा में 'STOMACH' को किस प्रकार लिखा जाएगा?

- (A) ACOHMST
- (B) MOSTACH
- (C) ACMOHST
- (D) AOCHMST

Answer: D

38. एक निश्चित कूट भाषा में, 'CHERRY' को '6-16-10-36-36-50' लिखा जाता है, और 'GRAPES' को '14-36-2-32-10-38' लिखा जाता है। उसी कूट भाषा में 'LITCHI' को किस प्रकार लिखा जाएगा?

- (A) 24-18-40-6-16-18
- (B) 24-16-40-6-18-16
- (C) 26-18-38-6-16-18
- (D) 26-18-40-6-16-18

Answer: A

39. एक निश्चित कूट भाषा में, 'LEAF' को 'OGDH' लिखा जाता है, और 'TREE' को 'WTHG' लिखा जाता है। उसी कूट भाषा में 'STEM' को किस प्रकार लिखा जाएगा?

- (A) VVHO
- (B) VUHN
- (C) UVGH
- (D) UVHO

Answer: A

40. उस विकल्प का चयन कीजिए, शब्दकोश में दिखेंगे। गए शब्दों के ऐसे सही क्रम का निरूपण करता है, जैसे वे अंग्रेजी

1 Canvas 2 Candidly 3 Canteen 4 Canopy 5 Cannibal
6 Cancer

- (A) 6, 2, 5, 3, 4, 1
- (B) 6, 2, 5, 4, 3, 1
- (C) 5, 2, 6, 4, 1, 3
- (D) 6, 5, 2, 4, 3, 1

Answer: b

41. उस विकल्प का चयन कीजिए, जो दिए गए सही क्रम का निरूपण करता जैसे वे अंग्रेजी शब्दकोश में दिखेंगे।

1 Circulate 2 Circuit 3 Citrus 4 Cinnamon 5 Circular
6 Citizen

- (A) 4, 2, 5, 1, 6, 3
- (B) 4, 2, 1, 5, 6, 3
- (C) 4, 5, 2, 1, 6, 3
- (D) 2, 1, 5, 4, 3, 6

Answer: A

42. उस विकल्प का चयन करें जो उन अक्षरों को निरूपित करता है, जिन्हें नीचे दिए गए रिक्त स्थान में बाएं से दाएं क्रमिक रूप से रखे जाने पर अक्षर श्रृंखला पूर्ण हो जाएगी।

BRU_TLP_RUI_LPBR_ITLPB_UIT_

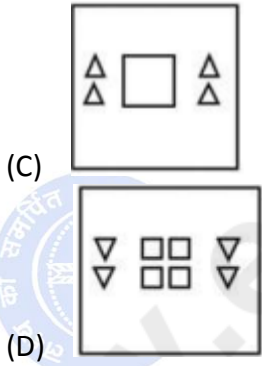
- (A) IBTUPLR
- (B) IBTRUPL
- (C) IBTURLP
- (D) IBRUTLP

Answer: c

43. उस विकल्प का चयन करें जो उन अक्षरों को निरूपित करता है, जिन्हें नीचे दिए गए रिक्त स्थान में बाएं से दाएं क्रमिक रूप से रखे जाने पर अक्षर श्रृंखला पूर्ण हो जाएगी।

DY_GMI_YTG_ILDYT_MILD_TGM_L

- (A) TDLGMYI
- (B) TLDGMIY

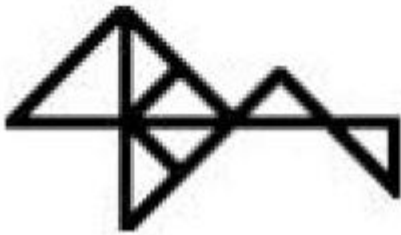


(C)

(D)

Answer: b

48. दी गई आकृति में कितने त्रिभुज हैं?



- (A) 9
- (B) 11
- (C) 12
- (D) 10

Answer: B

49. जब दर्पण को निम्न चित्र के अनुसार 'PQ' पर रखा जाता है, तो दिए संयोजन के वाले सही दर्पण प्रतिबिंब का चयन करें।



THANKFUL



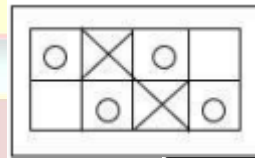
THANKFUL 05

(A)

(B) THANKFUL
(C) THANKFUL
(D) THANKFUL
CENTRE

Answer: D

50. उस विकल्प आकृति का चयन करें जो दी गई आकृति में सन्निहित है (घूमने की अनुमति नहीं है)।



(A)

(B)

(C)

(D)

Answer: c

51. वर्तमान में भारत में किस प्रकार की बेरोजगारी की समस्या बहुत गंभीर समस्या बनी हुई है ?

(A) ग्रामीण बेरोजगारी

(B) शिक्षित बेरोजगारी

(C) शहरी बेरोजगारी

(D) खुली बेरोजगारी

Answer: b

52. भारत में निर्धनता के स्तर का आकलन किया जाता है?

(A) विभिन्न राज्यों में प्रतिव्यक्ति आयके आधार पर

(B) परिवार की औसत आय के आधार पर

(C) परिवार के उपभोग व्यय के आधार पर

(D) देश की मलिन बस्तियों की जनसँख्या के आधार पर

Answer: c

53. हार्ड करंसी से तात्पर्य है?

(A) वह मुद्रा जिसकी आपूर्ति मांग की अपेक्षा को

(B) वह मुद्रा जिसकी आपूर्ति मांग की अपेक्षा अधिक हो

(C) वह मुद्रा जिसकी आपूर्ति तथा मांग दोनों स्थिर हो

(D) इनमे से कोई नहीं

Answer: a

54. बैंक दर वह दर है जिस पर --

(A) एक बैंक पब्लिक को उधार देता है

(B) आरबीआई पब्लिक को उधार देता है

(C) आरबीआई वाणिज्यक बैंको को उधार देता है

(D) भारत सरकार अन्य देशो को उधार देती है

Answer: c

55. भू-पर्पटी के सीमा परत पर कौन.सी तत्वों की प्रधानता है--

(A) सिलिकॉन और मैग्मा

(B) सिलिकॉन और मैग्नेटाइट

(C) सिलिकन और मैग्नेशियम

(D) सिलिकन और मैग्नेशियम

Answer: C

56. इम्फाल किस राज्य की राजधानी है

(A) मिजोरम

(B) नागालैंड

(C) मणिपुर

(D) त्रिपुरा

Answer: C

57. सिडनी किस नदी के किनारे बसा है --

(A) मिसिसिपी

(B) राइन

(C) डार्लिंग

(D) टिगरिस

Answer: C

58. बोकारो स्टील प्लांट किसकी सहायता से बनायी गई --

(A) फ्रांस

(B) रूस

- (C) जर्मनी
(D) ब्रिटेन

Answer: B

59. भारत का प्रथम गर्वनर जनरल किसे बनाया गया-

- (A) वारेन हेस्टिंग्स
(B) लार्ड कर्नावालिस
(C) लार्ड विलियम बैंटिक
(D) लार्ड कैनिंग

Answer: C

60. मिताक्षरा नामक ग्रंथ के लेखक कौन थे -

- (A) कल्हण
(B) महर्षिभनु
(C) विज्ञानेश्वर
(D) कालिदास

Answer: C

61. मुमताज महल का वास्तविक नाम क्या था-

- (A) अस्मत बेगम
(B) हमीना बेगम
(C) आरजूमंद बानूबेगम
(D) दिलरास बानूबेगम

Answer: C

62. मानव द्वारा बनाया जाने वाला प्रथम औजार था

- (A) तलवार
(B) भाला
(C) कुल्हाड़ी
(D) हल

Answer: C

63. चीन का राष्ट्रीय खेल है-

- (A) टेबल टेनिस
(B) आइस-हॉकी

- (C) सॉड-युद्ध
(D) जूडो-कराटे

Answer: The Path to Success

64. राष्ट्रीय कैडेट कोर (NCC) की स्थापना कब हुई-

- (A) 1948ई
(B) 1971ई0
(C) 1978ई0
(D) 1962ई

Answer: a

65. हिंदी दिवस कब मनाया जाता है-

- (A) 5 अक्टूबर
(B) 5 सितम्बर
(C) 14 सितम्बर
(D) 7 दिसम्बर

Answer: c

66. भारत की सबसे उँची चोटी कौन है-

- (A) एवरेस्ट
(B) नंदा देवी
(C) अरावली
(D) गॉडविन आस्टिन(K-2)

Answer: d


67. भारत का 28 वाँ राज्य कौन है-

- (A) उत्तराखंड
(B) झारखंड
(C) मिजोरम
(D) गोरखालैंड

Answer: b

68. राज्यसभा के सदस्यता के लिए न्यूनतम उम्र सीमा कितनी है-

- (A) 21 वर्ष



- (B) 25 वर्ष
- (C) 30 वर्ष
- (D) 35 वर्ष

Answer: c

69. लोक लेखा समिति में सदस्यों की संख्या कितनी होती है-

- (A) 22
- (B) 15
- (C) 7
- (D) 30

Answer: a

70. अंडमान, निकोबार द्वीप समूह किस उच्च न्यायालय के अन्तर्गत है-

- (A) चेन्नई
- (B) कोलकता
- (C) हैदराबाद
- (D) कटक

Answer: b

71. किसी विलयन का PH मान 7 से कम होने पर विलयन की प्रकृति होगी-

- (A) अम्लीय
- (B) क्षारीय
- (C) उदासीन
- (D) अपरिवर्तित

Answer: A

72. रक्त का थक्का न बनना किस विटामिन की कमी से होता है-

- (A) विटामिन A
- (B) विटामिन B
- (C) विटामिन K
- (D) विटामिन E

Answer: C

73. इनमें से अदिश राशि कौन है -

- (A) वेग
- (B) बल
- (C) द्रव्यमान
- (D) त्वरण

Answer: C

74. न्यूमिसमेटिक्स में किसका अध्ययन किया जाता है

- (A) तांत्रिका तंत्र का
- (B) पुराने सिक्कों का
- (C) औषधियों का
- (D) शिलालेखों का

Answer: B

75. किस शाखा के अंतर्गत मानव के विकास रीति

रिवाज, इतिहास परम्पराओं का अध्ययन किये जाते हैं

- (A) एनाटोमी
- (B) इतिहास

- (C) एन्थ्रोपोलोजी
- (D) आर्कियोलॉजी

Answer: C

76. Select the most appropriate ANTONYM of the given word.

Vast

- (A) Limitless
- (B) Small
- (C) Gigantic
- (D) Huge

Answer: B

77. Select the most appropriate ANTONYM of the given word.

Severe

- (A) Narrow
- (B) Mild
- (C) Short
- (D) Sharp

The Path to Success
CAREER CENTRE

DISCIPLINE

SACRIFICE

THE PATH TO SUCCESS

PASSION

CONFIDENCE

FOCUS

FOR

SSC RAILWAY BANKING

Dharmata Road, Sasaram 821115

www.careercentre360.com

9130206005

Answer: B

78. Select the most appropriate ANTONYM of the given word.

Ample

- (A) Spare
- (B) Enough
- (C) Plenty
- (D) Scarce

Answer: D

79. Select the most appropriate meaning of the given idiom.

Ins and outs

- (A) Complete facts
- (B) some details
- (C) Brief points
- (D) hidden facts

Answer: A

80. Select the most appropriate meaning of the given idiom .

In a fix

- (A) In a difficult situation
- (B) Under repairs
- (C) Om a closed space
- (D) Under observation

Answer: A

81. Select the most appropriate meaning of given idiom.

Having the gift of the gab

- (A) has the best gift
- (B) Possessive in nature
- (C) Not ready to share to share belongings

with others

- (D) Talks well and persuasively

Answer: D

82. Select the option that can be used as a one - word substitute for the given group of words.

An outgoing , socially confident person

- (A) introvert
- (B) Brooder
- (C) Solitary
- (D) Extrovert

Answer: D

83. Select the option that can be used as a one-word substitute for the given group of words.

Eskimo's house that is made of ice blocks

- (A) Burrow
- (B) Cave
- (C) Den
- (D) Igloo

Answer: D

84. Select the option that can be used as a one-word substitute for the given group of words.

Belonging to the middle ages

- (A) Ancient
- (B) Primitive
- (C) medieval
- (D) Modern

Answer: C

85. Select the most appropriate SYNONYM of the given word.

Wily

- (A) frank
- (B) Friendly
- (C) Crafty
- (D) Honest

Answer: C

86. Select the most appropriate synonym of the give word.

Scour

- (A) Mark
- (B) scrub
- (C) Dirty
- (D) Spot

Answer: B

87. Select the most appropriate synonym of the given word.

The Path to Success

CAREER CENTRE

DISCIPLINE

THE PATH TO SUCCESS

THE PATH TO SUCCESS

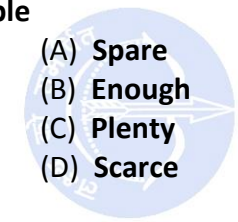
THE PATH TO SUCCESS

CONFIDENCE

FOR

SSC RAILWAY BANKING

Dharmshala Road, Sessaram - 821115



www.careercentre360.com

9430206005

Promotion

- (A) Demotion
- (B) endearment
- (C) Elevation
- (D) domination

Answer: C

88. Select the INCORRECTLY spelt word.

- (A) Miscelleneous
- (B) Misalliance
- (C) Miscreant
- (D) Misrepresent

Answer: A

89. Select the INCORRECTLY spelt word.

- (A) Spoonful
- (B) Vegetable
- (C) opening
- (D) Drainage

Answer: B

90. Select the INCORRECTLY spelt word.

- (A) Hospitel
- (B) hoist
- (C) hostel
- (D) hold

Answer: A

91. Select the most appropriate option that can substitute the underlined segment in the given sentence. If there is no need to substitute it , select 'No substitution required'.

She has one younger sister, does she?

- (A) haven't she
- (B) No substitution required
- (C) has she
- (D) hasn't she

Answer: D

92. Select the most appropriate option that can substitute the underlined segment in the given sentence. If there is no need to substitute it , select 'No substitution required'.

I play football yesterday .

- (A) I been playing
- (B) I playing
- (C) No substitution required
- (D) I played

Answer: D

93. Select the option that will improve the underlined part of the given sentence . In case no improvement is needed , select 'No improvement required'.

Your brother can't drive, is it ?

- (A) No improvement required
- (B) couldn't he
- (C) can he
- (D) will he

Answer: C

94. Select the most appropriate option to fill in the blank.

There are five ----- members of the united Nations.

- (A) forever
- (B) immortal
- (C) durable
- (D) permanent

Answer: D

95. Select the most appropriate option to fill in the blank.

My friend asked me to ----- Him a thousand rupees.

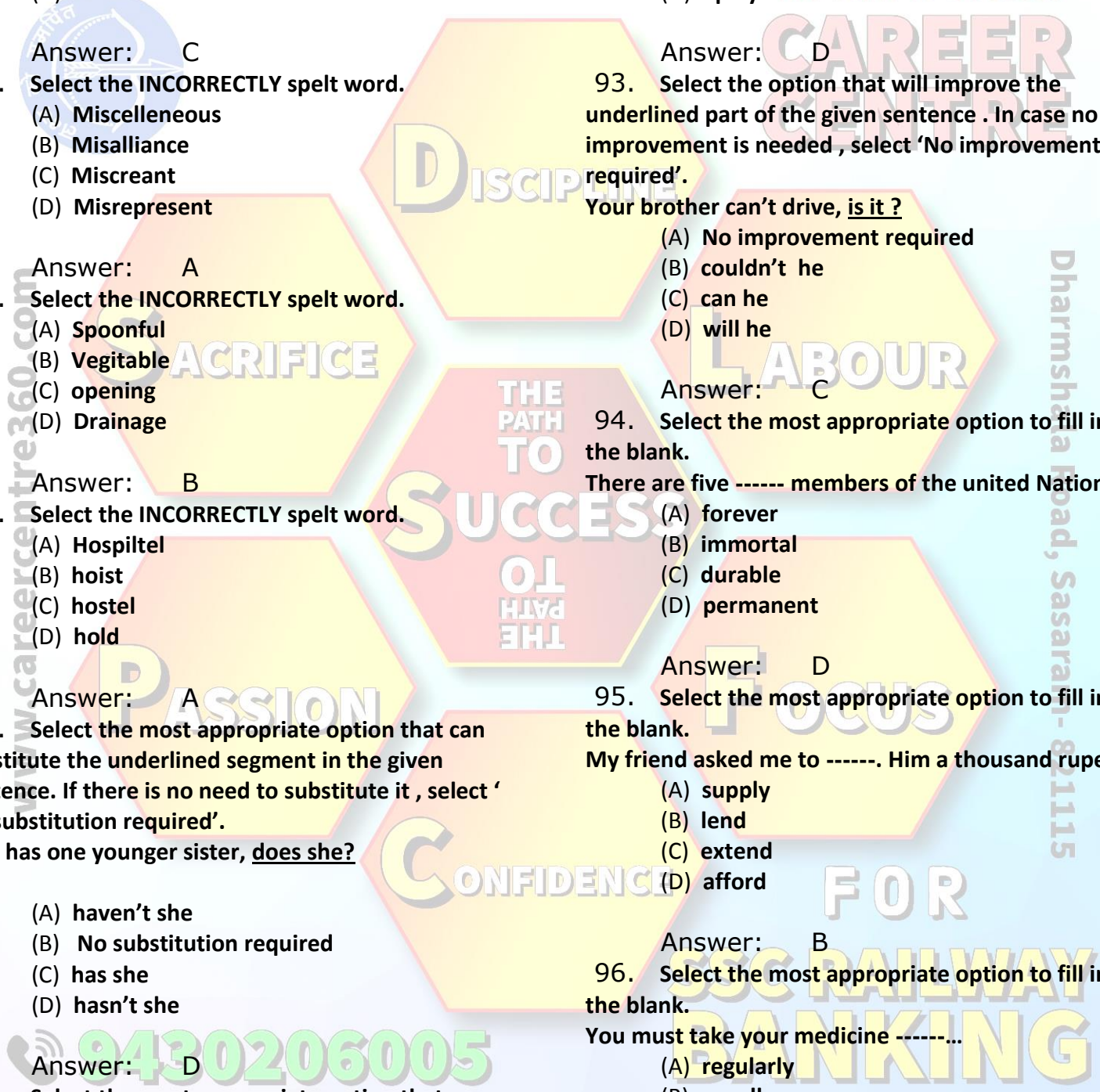
- (A) supply
- (B) lend
- (C) extend
- (D) afford

Answer: B

96. Select the most appropriate option to fill in the blank.

You must take your medicine -----

- (A) regularly
- (B) usually
- (C) constantly
- (D) commonly



Dharmshaha Road, Sasaram - 821115

Answer: A

97. Select the most appropriate synonym of the given word.

Choosy

- (A) Precious
- (B) Picky
- (C) Critical
- (D) Boring

Answer: B

98. Select the option that can be use as a one - word substitute foe the given group of words.

Fluent or persuasive in speaking or writing

- (A) Eloquent
- (B) Presenter
- (C) Magnificent
- (D) Persuader

Answer: A

99. Select the INCORRECTLY spelt word.

- (A) Future
- (B) Flalvure
- (C) Leisure
- (D) Figure

Answer: B

100. Select the most appropriate ANTONYM of the given word.

- (A) eager
- (B) Exposed
- (C) Sensitive
- (D) Excused

Answer: C

www.careercentre360.com

PASSION

CONFIDENCE

THE PATH TO SUCCESS TO THE PATH

FOCUS

LABOUR

DISCIPLINE

The Path to Success
CAREER CENTRE

Dharmshala Road, Sasaram - 821115

FOR

SSC RAILWAY BANKING

9430206005